

Муниципальное автономное образовательное учреждение «Средняя общеобразовательная школа № 12»

Дидактические материалы по истории
«ПОДГОТОВКА К ЕГЭ: ОТРАБОТКА ЗАДАНИЙ
ПО ВОПРОСАМ КУЛЬТУРЫ»
для 10-11 класса

Материалы подготовила

Бас Наталья Валерьевна

учитель истории и

обществознания,

basnatascha@yandex.ru

Соликамск, 2022

ПОЯСНИТЕЛЬНАЯ ЗАПИСКА

В данной дидактической разработке представлено многообразие полезного материала, необходимого для подготовки выпускника основной школы по истории. Материал будет полезен как обучающимся в профильном классе, так и обучающимся на базовом уровне, сдающим выпускной экзамен по истории, а также преподавателям истории.

В разработке представлен дидактический материал для отработки заданий ЕГЭ: знание фактов, процессов, явлений истории культуры России VIII – начало XXI в. иллюстративный материал, задания на установление соответствия между памятниками культуры и их характеристиками. Это целый комплекс заданий на отработку знаний архитектурных памятников.

Данное пособие разработано для эффективной подготовки к ЕГЭ по истории России содержит задания с иллюстративным материалом формата ЕГЭ по всему курсу истории России — с древнейших времен до начала XXI в. Выполнение этих заданий позволит отработать и закрепить необходимые для успешной сдачи экзамена умения и навыки.

Данная дидактическая разработка может быть использована при подготовке к уроку, при подготовке обучающихся к олимпиадам по истории России, при отработке заданий ЕГЭ по истории.




Для ответов можно использовать таблицы или работать в самой таблице.






1.Первое задание соотнесите название архитектурного памятника с изображением памятника. Ответы занесите в таблицу






1	2	3	4	5	6	7	8	9	1	1	1	1	1	1	1	1	1	2	2	2	2	2	2	2	2	2	2	3	
									0	1	2	3	4	5	6	7	8	9	0	1	2	3	4	5	6	7	8	9	0

2.Соотнесите архитектурный памятник и век, к которому он относится






1	2	3	4	5	6	7	8	9	1	1	1	1	1	1	1	1	1	2	2	2	2	2	2	2	2	2	2	3	
									0	1	2	3	4	5	6	7	8	9	0	1	2	3	4	5	6	7	8	9	0






	Название памятника	Век	Изображение памятника
1	Здание Главного адмиралтейства	1	
2	Государственный академический Большой театр России	2	
3	Успенский собор Московского Кремля	3	


4	Кунсткамера		4	
5	Дом Пашкова		5	
6	Грановитая палата		6	
7	Софийский собор в Киеве		7	
8	Благовещенский собор Московского Кремля		8	

9	Спасо-Преображенский собор в Переяславле-Залесском		9 
10	Церковь Покрова на Нерли		10 
11	Храм Покрова в Филях		11 
12	Смольный Воскресенский собор		12 
13	Успенский собор во Владимире		13 

14	Золотые ворота в Киеве		14	
15	Поганкины палаты		15	
16	Церковь Вознесения Господня в Коломенском		16	
17	Дмитровский собор во Владимире		17	
18	Успенский собор Троице- Сергиевой лавры		18	
19	Колокольня Ивана Великого		19	

20	Петропавловский собор		20	
21	Архангельский собор в Кремле		21	
22	Николаевский вокзал		22	
23	Мавзолей Ленина		23	
24	Теремной дворец		24	

25	Большой Кремлёвский дворец		25	
26	Софийский собор в Полоцке		26	
27	Храм Христа Спасителя		27	
28	Главное здание Московского государственного университета им. М. В. Ломоносова		28	
29	Дом Мельникова		29	

30	Ярославский вокзал	30	

А также можно предложить написать:

- автора архитектурного памятника;

- правителя при котором был построен данный архитектурный памятник.

Ответы

1.

1	2	3	4	5	6	7	8	9	1	1	1	1	1	1	1	1	1	1	2	2	2	2	2	2	2	2	2	2	2	3
									0	1	2	3	4	5	6	7	8	9	0	1	2	3	4	5	6	7	8	9	0	
4	1	7	1	1	1	1	1	6	2	2	1	2	1	2	2	2	2	2	9	3	8	3	2	2	1	2	5	1	1	
	3		4	5	6		2		6		7	1	8	4	0	3	5	8		0			7	2	0	9		1	9	

2.

1	2	3	4	5	6	7	8	9	1	1	1	1	1	1	1	1	1	1	2	2	2	2	2	2	2	2	2	2	3	
									0	1	2	3	4	5	6	7	8	9	0	1	2	3	4	5	6	7	8	9	0	
1	1	1	1	1	1	1	1	1	1	1	1	1	1	1	1	1	1	1	1	1	1	2	1	1	1	1	2	2	2	
8	9	5	8	8	5	1	5	2	2	7	8	5	1	7	6	2	6	6	8	5	9	0	7	9	1	9	0	0	0	